

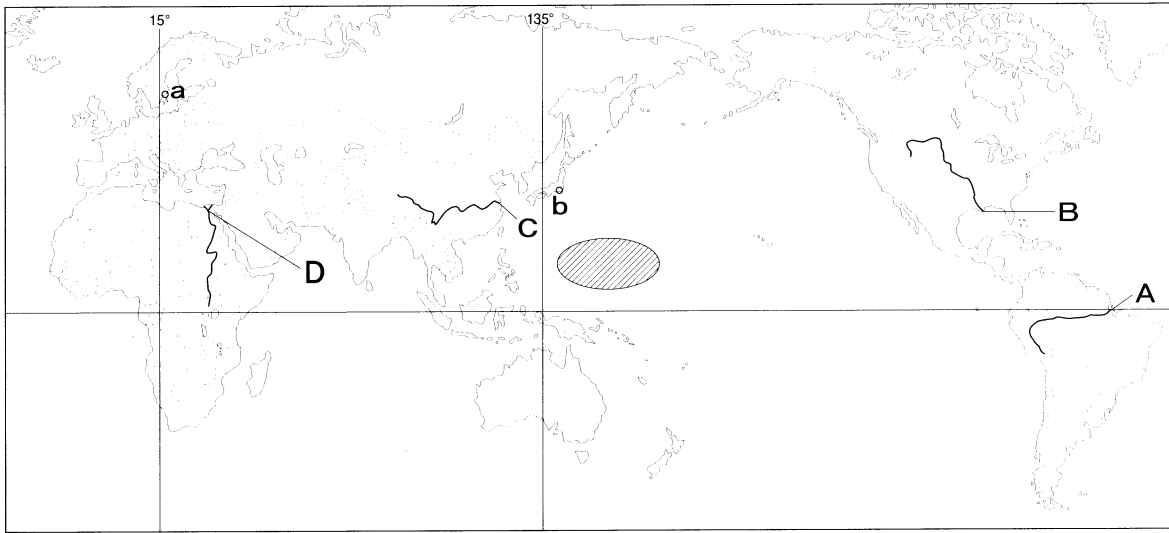
平成23年度
宇都宮短期大学附属高等学校入学試験問題

社 会


注 意

- 1 監督者の「始め」の合図があるまでは、開いてはいけません。
- 2 試験時間は、板書されている時間割のと通りの45分間です。
- 3 問題数は大きな問題が6問で、表紙を除いて7ページです。
- 4 解答用紙は1枚で、答え方はマークシート方式です。
- 5 監督者の指示にしたがって、試験開始前に受験番号と氏名を解答用紙のきめられた欄に書き、さらに受験番号をマーク欄にマークしなさい。
- 6 答えは、解答用紙に記載されている〔解答マーク記入上の注意〕、および試験開始前に行われたマークシート練習プリントにしたがって、ていねいにマークしなさい。
- 7 試験中に質問があれば、手をあげて監督者に聞きなさい。
- 8 監督者の「やめ」の合図があったら、すぐやめて、鉛筆をおきなさい。


1 次の地図を見て、下の**1**から**6**の問いに答えなさい。




- 1 地図中**A**の世界で最も流域面積の大きい河川はどれか。
ア ナイル川 **イ** 長江 **ウ** ミシシッピ川 **エ** アマゾン川
- 2 地図中**B**の河川の河口付近において、産出される鉱産資源をもとにおこなわれている工業はどれか。
ア 石油化学工業 **イ** 自動車工業 **ウ** 鉄鋼業 **エ** 食品工業
- 3 地図中**C**の河川の河口付近にある都市では、2010年に万国博覧会が開催されたが、その都市はどれか。
ア ペキン **イ** チョンチン **ウ** シャンハイ **エ** ホンコン
- 4 地図中**D**の河川流域にみられる住居をしめしたものはどれか。




ア




イ



ウ

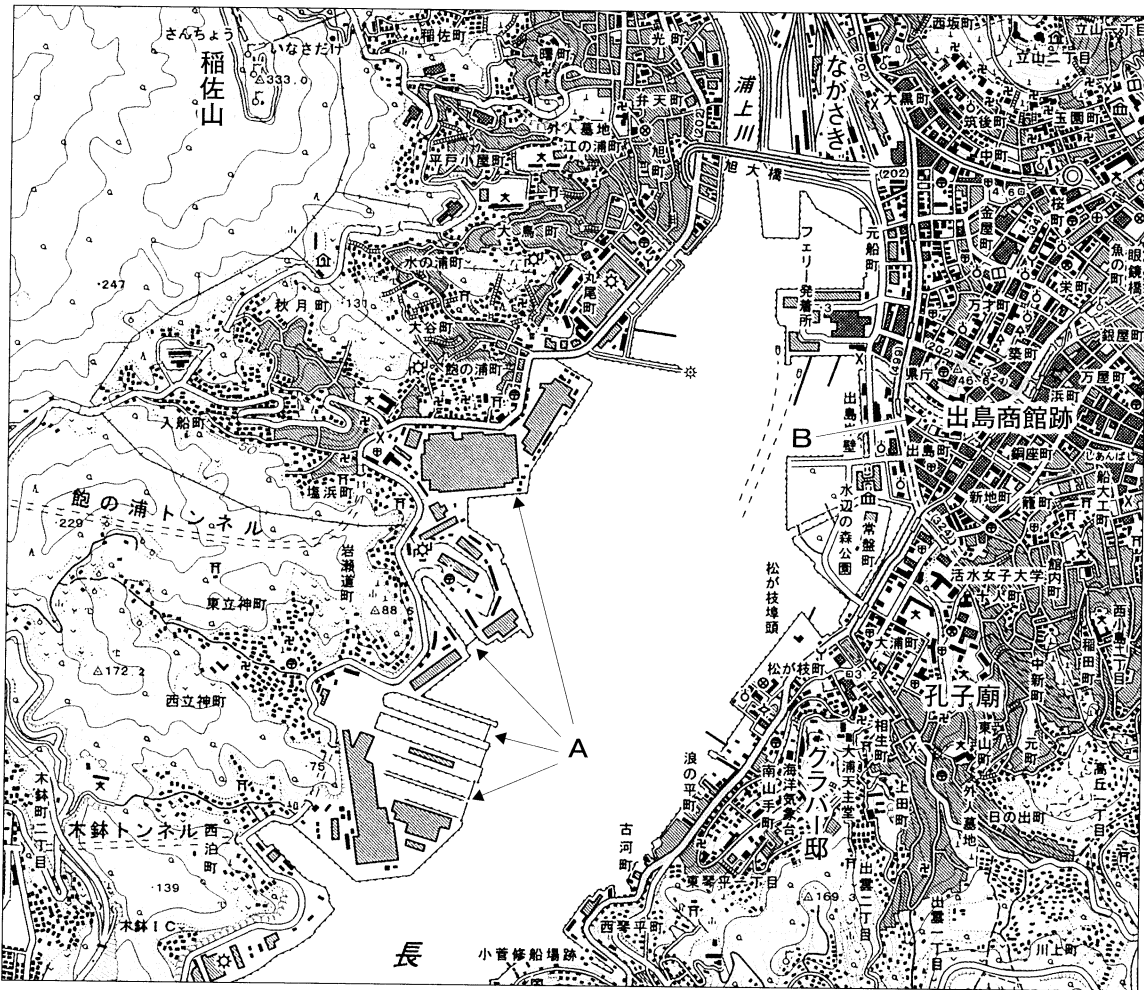


エ

- 5 地図中**a**都市と**b**都市の時差はどれか。
ア 6時間 **イ** 8時間 **ウ** 10時間 **エ** 12時間
- 6 地図中の海域で発生し日本などに被害をもたらす熱帯性の低気圧名はどれか。
ア ハリケーン **イ** サイクロン **ウ** 台風 **エ** モンスーン

2

次の地図を見て、下の1から6の間に答えなさい。



- 1 稲佐山山頂よりみたグラバー邸の方角はどれか。
 ア 東北東 イ 北北東 ウ 南東 エ 北西
- 2 ながさき駅から孔子廟までを地図上で長さを計ると8cmあり、実際の距離を求めると2kmであった。この地形図の縮尺はどれか。
 ア 1万分の1 イ 2万5千分の1 ウ 5万分の1 エ 20万分の1
- 3 地図中にある地図記号と意味の正しい組み合わせはどれか。
 ア ㊦—博物館 イ ㊦—税務署 ウ ㊦—図書館 エ ㊦—警察署
- 4 地図中 A は、三菱重工業の建物だが、つくっているものはどれか。
 ア 船 イ 自動車 ウ 航空機 エ IC
- 5 地図中 B は、江戸時代のころ貿易を認められていた場所だが、その相手国はどれか。
 ア ポルトガル イ イギリス ウ スペイン エ オランダ
- 6 この地図中の県で生産が盛んな農産物の組み合わせとして正しいものはどれか。
 ア みかん・ぶどう イ メロン・びわ ウ なし・りんご エ みかん・びわ

3 次の史料を読み、下の**1**から**6**の問いに答えなさい。

史料A

諸国の百姓が刀やわきざし、弓、やり、鉄砲、そのほかの武具などをもつことは、かたく禁止する。不必要な武具をたくわえ、年貢その他の税をなかなか納入せず、ついには一揆をくだたりして、領主に対してよからぬ行為をする者は、もちろん処罰する。

- 1** 史料Aを制定した人物がおこなったこととしてあてはまらないものはどれか。
- ア ものさしやますを統一して全国の田畑の広さなどを調べ、石高で表した。
 - イ 宣教師追放令を出し、キリスト教を禁止する一方、南蛮貿易を奨励した。
 - ウ 天皇や公家の行動を制限し、政治上の力をもたせないようにした。
 - エ 大阪・堺などの重要都市を直轄地とし、天正大判を発行した。
- 2** 史料Aが制定されたころの文化として正しいものはどれか。
- ア 大名や大商人たちによる豪華で雄大な文化で、南蛮文化の影響もあった。
 - イ 上方を中心とした町人文化で、人形浄瑠璃や浮世絵が流行した。
 - ウ 江戸を中心とした町人文化で、世相を皮肉る作品が喜ばれた。
 - エ 欧米文化の影響を受け、太陽暦に切りかえるなど伝統的な生活が変化した。

史料B

善人でさえ極楽往生ができる。ましてや悪人が往生できないわけがない。なぜなら、自分の力で善行ができると信じる人は弥陀の力を信じる心を欠くので弥陀の本願からはずれており、他力を信頼しきることができる悪人こそ最も正しく往生できる真の要因を持っているからである。

- 3** 史料Bと関係の深い人物名と宗派名の組み合わせとして正しいものはどれか。
- ア 人物名：栄西 宗派名：臨済宗 イ 人物名：日蓮 宗派名：日蓮宗
 - ウ 人物名：親鸞 宗派名：浄土真宗 エ 人物名：道元 宗派名：曹洞宗

史料C

第1条 < a > とは、戦時に際し国防目的達成のため、国の全力を最も有効に發揮せしむるよう、人的及び物的資源を統制運用するをいう。

第4条 政府は戦時に際し < a > 上必要あるときは、勅令の定むるところにより、帝国臣民を徴用して総動員業務に従事せしむることを得。ただし兵役法の適用を妨げず。

4 史料Cについて、〈 a 〉にあてはまるものはどれか。

- ア 国家総力戦 イ 国家総動員 ウ 国民徴用 エ 国民精神総動員

史料D

天は人の上に人を造らず，人の下に人を造らずと言へり。されば天より人を生ずるには，万人は万人皆同じ位にして，生まれながらにして貴賤上下の差別なく……

5 史料Dの著者はだれか。

- ア 中江兆民 イ 板垣退助 ウ 西郷隆盛 エ 福沢諭吉

6 史料Dが刊行された年の後におこったできごとはどれか。

- ア 天明のききんがおきた。 イ 西南戦争がおきた。
ウ 桜田門外の変がおきた。 エ 天保のききんがおきた。

4 次の略年表を見て，下の1から6の問いに答えなさい。

西 暦	で き ご と
1854	日米和親条約を結ぶ……………A
1859	安政の大獄がおこる……………B
	↑
	C
	↓
1894	日清戦争がおこる……………D
1905	ポーツマス条約を結ぶ……………E
	↑
	F
	↓
1920	国際連盟に加盟する

1 年表中のAについて，この条約により開かれた港はどれか。

- ア 神奈川 イ 長崎 ウ 江戸 エ 下田

2 年表中のBについて，このとき死刑となった人物はだれか。

- ア 吉田松陰 イ 井伊直弼 ウ 勝海舟 エ 徳川斉昭

- 3 下線部③について、内閣総理大臣の説明として、あてはまらないものはどれか。
- ア 内閣総理大臣とその他の国務大臣は、文民でなければならない。
 - イ 内閣総理大臣は、その他の国務大臣を任命する内閣の長である。
 - ウ 内閣総理大臣と国務大臣は、閣議を開いて行政の運営などについて決定する。
 - エ 内閣総理大臣の任期は原則2年である。
- 4 文中〈 A 〉にあてはまるものはどれか。
- ア 民間人
 - イ 国務大臣
 - ウ 国会議員
 - エ 衆議院議員
- 5 下線部④について、議院内閣制に直接関係するものはどれか。
- ア 地方公共団体の首長は、住民によって直接選挙で選ばれる。
 - イ 裁判所は、法律や内閣の行為が憲法に違反していないかどうかを判断する。
 - ウ 内閣は国会の信任にもとづいて成立する。
 - エ 行政機関は、内閣の監督のもとに、広い範囲の行政事務を行う。
- 6 下線部⑤について、2001年におこなわれた省や庁の再編として、正しいものはどれか。
- ア それまでの省庁の分割をおこない、数を増やした。
 - イ それまでの省庁に加え、新たな省庁を設けた。
 - ウ それまでの省庁の数は変えずに名称を変えた。
 - エ それまでの省庁の統合をおこない、数を減らした。

6 次の文章を読み、下の1から6の問いに答えなさい。

私たちの現在と未来にとって、自然と人間が調和して生きる条件をととのえることは切実な課題である。

①わが国の環境問題について思いおこしてみよう。②産業公害は、企業が地域住民の安全や健康に対する配慮をおこたり、有害物質を処理しないまま排出したことによって生じた。その被害者を中心とした市民運動などをおして、〈 A 〉が重要な人権として主張されるようになってきている。開発がもたらす③環境への影響を、④事前に予測・評価し、住民の意見を聞くことを事業者に義務づけた法律も制定されている。

一方、家庭や学校からでるゴミ処理にも問題が存在している。プラスチック類を焼却すると生じるとされる〈 B 〉などの化学物質は、環境ホルモンとよばれている。私たちもゴミをきちんと分別することで、自分たちの健康を守れるのである。

