


平成23年度
宇都宮短期大学附属高等学校入学試験問題

社 会

注 意

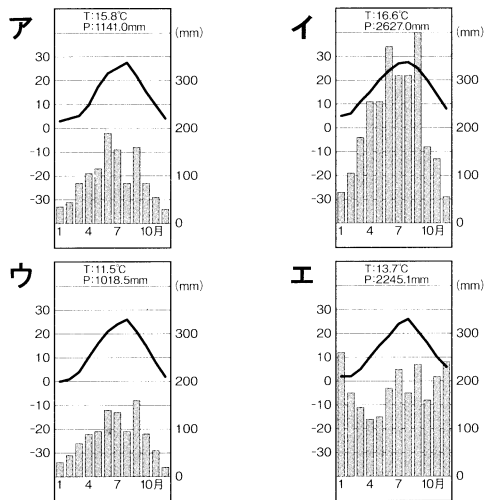
- 1 監督者の「始め」の合図があるまでは、開いてはいけません。
- 2 試験時間は、板書されている時間割のとおりの45分間です。
- 3 問題数は大きな問題が6問で、表紙を除いて7ページです。
- 4 解答用紙は1枚で、答え方はマークシート方式です。
- 5 監督者の指示にしたがって、試験開始前に受験番号と氏名を解答用紙のきめられた欄に書き、さらに受験番号をマーク欄にマークしなさい。
- 6 答えは、解答用紙に記載されている〔解答マーク記入上の注意〕、および試験開始前に行われたマークシート練習プリントにしたがって、ていねいにマークしなさい。
- 7 試験中に質問があれば、手をあげて監督者に聞きなさい。
- 8 監督者の「やめ」の合図があったら、すぐやめて、鉛筆をおきなさい。

1 次の地図を見て、下の**1**から**6**の問いに答えなさい。

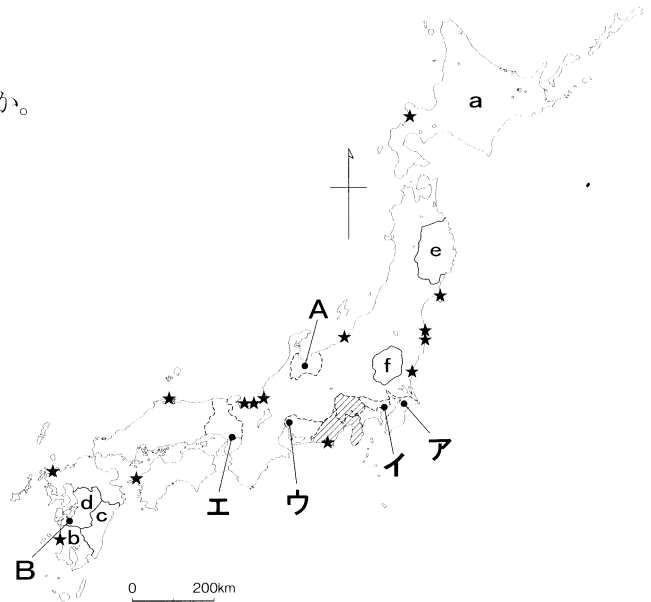
1 地図中  の両県にまたがる山はどれか。

- ア 浅間山 イ 蔵王山
ウ 富士山 エ 御岳山

2 地図中 **A** の都市における雨温図はどれか。



[理科年表 平成21年]



3 次のグラフは、地図中の **a**～**f** の都道府県で生産されている畜産物をしめしているがどれか。(グラフと地図の記号の都道府県は一致する。)

—2006年— 278万頭

a	b	c	d	e	f	その他
17%	13	10	5	4	4	47

[農林水産統計速報,ほか]

- ア 乳牛 イ 豚 ウ 鶏 エ 肉牛

4 地図中 **B** の都市でおきた公害はどれか。

- ア 水俣病 イ イタイイタイ病 ウ 四日市ぜんそく エ 新潟水俣病

5 次の輸出入品に関する表にあてはまる貿易港は地図中 **A**～**E** のどれか。

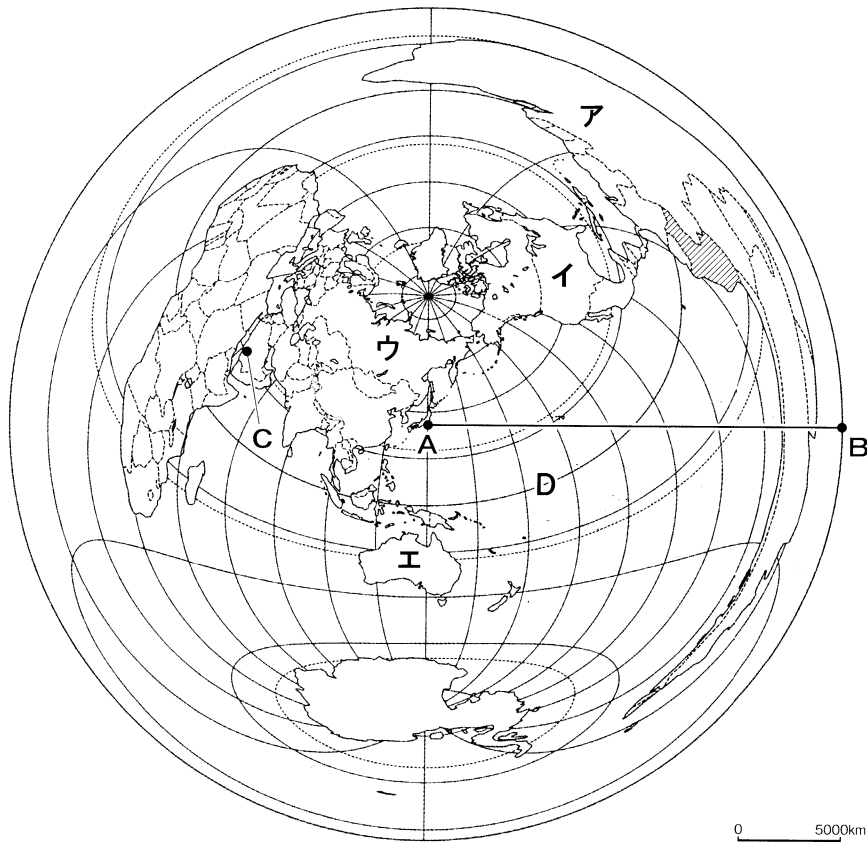
輸出品目	金額比	輸入品目	金額比
自動車	31.8	石油	13.7
自動車部品	12.0	液化ガス	12.3
金属加工機械	4.7	アルミニウム	6.6
内燃機関	4.6	衣類	5.3
鉄鋼	3.0	自動車部品	2.7

6 地図中★は原子力発電所の分布をしめしているが、世界で最もこの発電割合の多い国はどれか。

- ア 日本 イ フランス ウ アメリカ合衆国 エ ロシア

2

次の地図を見て、下の1から6の問いに答えなさい。



1 上の地図の名称はどれか。

ア モルワイデ図法 イ メルカトル図法 ウ 正距方位図法 エ ミラー図法

2 地図中Aは、中心点であるが一番外側のBまでの距離はどれか。

ア 約5000km イ 約10000km ウ 約15000km エ 約20000km


3 地図中Cは、イスラム教の聖地であるが、Aからみた方位はどれか。

ア 西 イ 西北西 ウ 北北西 エ 北

4 地図中ア～エの国々の中で、最も面積の大きい国はどれか。

5 地図中Dでしめした赤道が通る国はどれか。

ア ケニア イ メキシコ ウ ガーナ エ シンガポール

6 地図中の国で、先住民の運搬用として飼われている下の写真の動物はどれか。

ア アルパカ イ ヤク
ウ ロバ エ トナカイ



3 次の略年表を見て、下の**1**から**6**の問いに答えなさい。

西 暦	で き ご と
6 9 4	〈 a 〉 に都を移す
7 0 1	大宝律令を定める・・・・・・・・・・・・・・・・・・ A ↑ B ↓
7 1 0	〈 b 〉 に都を移す・・・・・・・・・・・・・・・・・・ C ↑ D ↓
7 8 4	〈 c 〉 に都を移す
7 9 4	平安京に都を移す・・・・・・・・・・・・・・・・・・ E

1 年表中の〈 a 〉～〈 c 〉にあてはまる語句の組み合わせとして正しいものはどれか。

- | | | |
|----------------|---------------|---------------|
| ア a－藤原京 | b －平城京 | c －長岡京 |
| イ a－藤原京 | b －長岡京 | c －平城京 |
| ウ a－長岡京 | b －平城京 | c －藤原京 |
| エ a－平城京 | b －長岡京 | c －藤原京 |

2 年表中の**A**に関連して、律令国家の説明としてあてはまらないものはどれか。

- ア** 中央には政治を担当する太政官などの二官八省が置かれた。
- イ** 九州に大宰府が置かれ、九州地方の政治や外交・防衛にあたった。
- ウ** 東北地方には多賀城・秋田城が置かれ、防人が防衛にあたった。
- エ** 各国には国府が置かれ、中央の貴族が国司として派遣された。

3 年表中の**B**について、この時期におこったできごととしてあてはまるものはどれか。

- ア** 和同開珎という貨幣が発行された。
- イ** 歴史書である『日本書紀』が編さんされた。
- ウ** 日本最古の歌集である『万葉集』がつくられた。
- エ** 新羅が朝鮮半島を統一した。

- 3 下線部①について、このころにおこったできごとの組み合わせとして正しいものはどれか。
- a アメリカ独立戦争 b フランス革命 c 名誉革命 d アヘン戦争
 ア aとb イ bとc ウ bとd エ aとd
- 4 下線部②に関連して、日本の産業革命の特徴としてあてはまるものはどれか。
- ア 中国やインドから綿花を輸入し、中国などに綿糸を輸出した。
 イ 茶の輸入量が減少し、茶を国内で生産するようになった。
 ウ 三井・三菱・住友・安田などの財閥が政府により解体された。
 エ 労働者が待遇改善を求めたため、労働組合法が制定された。
- 5 下線部③について、この間におこったできごととして正しいものはどれか。
- ア 関税自主権が回復された。 イ 教育基本法が制定された。
 ウ 日韓基本条約が結ばれた。 エ ワシントン会議が開かれた。
- 6 下線部④について、あてはまらないものはどれか。
- ア 日本はイギリスなどとともに国際連盟の常任理事国となった。
 イ 日本はサンフランシスコ平和条約を結ぶと同時に国際連合に加盟した。
 ウ アメリカ大統領の提唱により国際連盟が設立された。
 エ 国際連合の常任理事国には拒否権が認められた。

5 次の文章を読み、下の1から6の問いに答えなさい。

1994年の法改正によってわが国の衆議院の選挙制度は、それまでの定数500人を全国で130の選挙区に分ける中選挙区制から、総定数のうち **あ** 人を小選挙区制で選び、 **い** 人を全国11区のブロックに分ける比例代表制で選出するように大幅な変更がおこなわれた。また、選挙運動の違反に対しては、〈 **A** 〉制が強化された。選挙運動は普通、①政党を中心におこなわれるが、②各政党はそれぞれの政策を公約として国民に発表して、できるだけ多くの議席を獲得しようと互いに争う。わが国では政党政治のありかたも現在大きな転換期を迎えている。

わが国の国会議員などを選ぶ③選挙でおこなわれるような、自分の意志を他人に知られないように無記名で投票するしかたを〈 **B** 〉という。

- 1 文中 **あ**・**い** に入る数字の組み合わせで正しいものはどれか。
- ア あ-100 い-300 イ あ-200 い-300
 ウ あ-300 い-180 エ あ-130 い-300
- 2 文中 〈 **A** 〉にあてはまるものはどれか。
- ア 連座 イ 選択 ウ 辞任 エ 再選

3 下線部①について、政党について述べた次の文のうち、あてはまらないものの組み合わせはどれか。

- a 政党は、主義や政策について同じ意見を持つ人々によってつくられている政治団体である。
- b 政党は、自らの利益のみを最優先し、その実現をめざす団体である。
- c 政権を担当し、内閣を助ける役割を果たしている政党を与党、それ以外の政党を野党とよぶ。
- d 法律案の提出は政党のみ認められ、政党は国民と国会を結びつける役割を持っている。
- e 2つ以上の政党で組織する内閣を連立内閣とよぶ。

ア aとb イ bとd ウ cとe エ dとe

4 下線部②について、あてはまらないものはどれか。

- ア 日本では議会で多数をしめた政党が内閣を組織する。
- イ 日本はここ数年単独の政党による内閣が組閣されている。
- ウ 政権公約のことをマニフェストという。
- エ 政党の資金面については、政治資金規正法などで規制されている。

5 下線部③について、わが国で女性に選挙権が認められた総選挙はどれか。

- ア 大日本帝国憲法制定後の初の総選挙
- イ 普通選挙法制定後の初の総選挙
- ウ 太平洋戦争後の初の総選挙
- エ 男女雇用機会均等法制定後の初の総選挙

6 文中〈 B 〉にあてはまるものはどれか。

- ア 普通選挙 イ 平等選挙 ウ 直接選挙 エ 秘密選挙

6 次の文章を読み、下の1から6の問いに答えなさい。

君たちは「①物価」ということばを聞いたことがあるだろうか。価格が個々の値段であるのに対して、物価はいろいろな商品の価格を平均して指数でとらえたものである。

②わが国の経済は戦後、好況と不況を交互にくり返してきた。このようなくり返しのことをく **A**) という。今日では、国家によって通貨量を調整するための政策がとられる。不況のときはその打開のために、政府は財政支出をく **B**)、日本銀行は利子率をく **C**) など、国全体に出回る通貨量を増やす政策をとる。また、経済の自由競争の原則をそのままに放置しておく、国民の所得や資産にいちじるしく格差が生じてしまう。そこで、政府は、③所得の多い人には税率を高くし、少ない人には税率を低くして④税金を徴収したり、社会保険などへの社会保障を通じて、所得の格差を是正している。

1 下線部①について、デフレーションの説明として正しいものはどれか。

- ア 貨幣価値が下がって物価が上がりつづけ、経済活動が不活発になり、企業の倒産が増加する。
- イ 貨幣価値が上がって物価が下がりつづけ、経済活動が活発になり、企業の倒産が減少する。
- ウ 貨幣価値が下がって物価が上がりつづけ、経済活動が活発になり、企業の倒産が減少する。
- エ 貨幣価値が上がって物価が下がりつづけ、経済活動が不活発になり、企業の倒産が増加する。

2 下線部②について、バブル経済期のできごととしてあてはまるものはどれか。

- ア 消費税が3%から5%に引き上げられた。
- イ 株価や地価が高騰し、好景気がつづいた。
- ウ 戦後はじめての赤字国債が発行された。
- エ 日本版金融ビッグバンがおこなわれた。

3 文中く **A**) にあてはまるものはどれか。

- ア 市場価格 イ 景気変動 ウ 為替相場 エ 経済成長

4 文中く **B**)・く **C**) にあてはまる語句の組み合わせとして正しいものはどれか。

- ア B-増やし C-下げる イ B-減らし C-上げる
- ウ B-増やし C-上げる エ B-減らし C-下げる

5 下線部③について、このようなしくみを何というか。

- ア 逆進課税制度 イ 財政投融资制度 ウ 累進課税制度 エ 源泉徴収制度

6 下線部④について、消費税の説明として正しいものはどれか。

- ア 消費者が商品の購入時に価格に含まれるかたちで払う直接税である。
- イ 企業の利益にかかる間接税である。
- ウ 商品の生産者や販売者が負担する直接税である。
- エ 消費者が商品の購入時に価格にうわのせして払う間接税である。